

# GOUR INSTITUTE

PSC, Bank (Clerk/PO), SSC, Railways, S.I., Classes

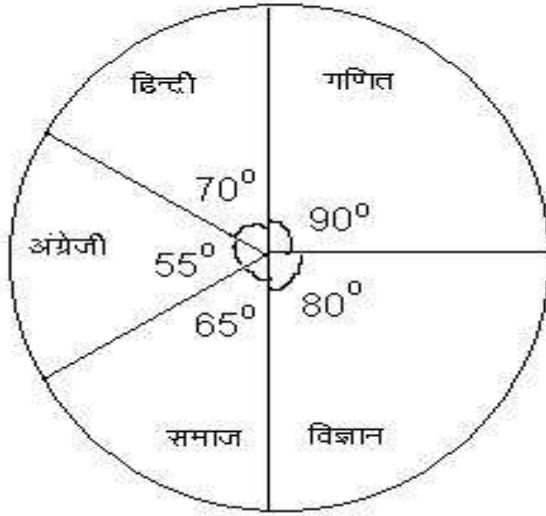
Director - Rajeev Sir, Mob. 9826072042, 9039009669

F – 12, City Bazar, Thatipur, Gwalior (M.P.) [www.gourinstitute.in](http://www.gourinstitute.in)

## PAI CHART

### EXERCISE-1

निर्देश : नीचे दिए गए पाई-चार्ट एक परीक्षा में किसी विद्यार्थी द्वारा प्राप्त अंकों को दर्शाता है। यदि विद्यार्थी द्वारा परीक्षा में प्राप्त कुल अंक 540 हो। तो इस पाई-चार्ट का अध्ययन करके प्रश्नों के उत्तर दें



- विद्यार्थी ने किस विषय में 105 अंक अर्जित किए ?  
(a) गणित (b) समाजिक (c) विज्ञान (d) हिन्दी (e) इनमें से कोई नहीं
- विज्ञान विषय के लिए संगत केन्द्रीय कोण कितना है ?  
(a) 40° (b) 80° (c) 75° (d) 60° (e) इनमें से कोई नहीं
- विद्यार्थी ने हिन्दी की तुलना में गणित में कितने अंक अधिक प्राप्त किए ?  
(a) 30 (b) 20 (c) 10 (d) 40 (e) इनमें से कोई नहीं
- विद्यार्थी ने विज्ञान में कितने अंक अर्जित किए ?  
(a) 130 (b) 120 (c) 125 (d) 140 (e) इनमें से कोई नहीं

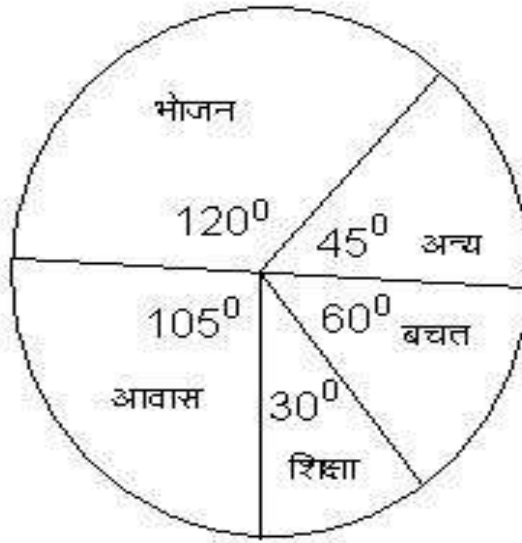
# GOUR INSTITUTE

PSC, Bank (Clerk/PO), SSC, Railways, S.I., Classes

Director - Rajeev Sir, Mob. 9826072042, 9039009669

F – 12, City Bazar, Thatipur, Gwalior (M.P.) [www.gourinstitute.in](http://www.gourinstitute.in)

निर्देश : नीचे दिए गए पाई-चार्ट एक परिवार द्वारा महीने में विभिन्न पदों पर किए गए व्यय तथा परिवार की बचत जो 8000 रु. है। पाई-चार्ट का अध्ययन करके प्रश्नों के उत्तर दें



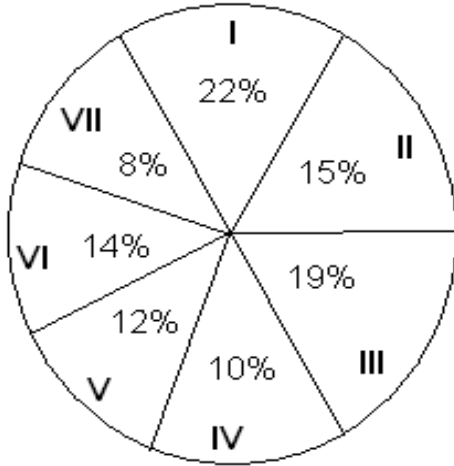
05. भोजन पर किए गए खर्च का बचत से अनुपात है—  
(a) 3 : 2 (b) 2 : 1 (c) 4 : 3 (d) 3 : 4
06. परिवार के महीने का कुल व्यय क्या है ?  
(a) 40000 (b) 48000 (c) 45000 (d) 50000
07. भोजन पर आवास की तुलना में कितनी अधिक धनराशि खर्च की गई ?  
(a) 1000 (b) 3000 (c) 2000 (d) 2500
08. शिक्षा पर कितना व्यय किया गया ?  
(a) 3000 (b) 5000 (c) 4000 (d) 7000

## PAI CHART

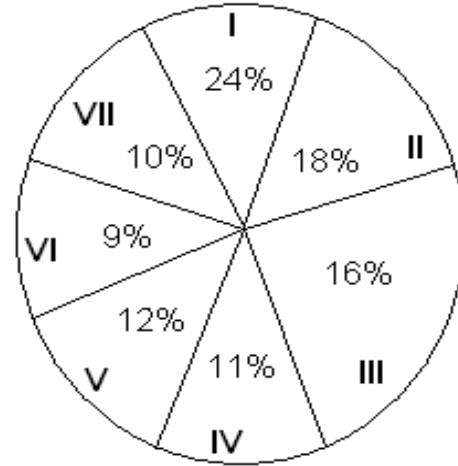
### EXERCISE-2

निर्देश : नीचे दिए गए प्रश्नों के उत्तर हेतु पाई-चार्ट का अध्ययन कीजिए -  
एक संगठन में विभिन्न स्तरों पर काम कर रहे 1500 कर्मचारियों का ब्योरा -

विभिन्न वेतनमान में 1500 कर्मचारियों का विभाजन



विभिन्न वेतनमान में 800 पुरुष कर्मचारियों का विभाजन



- वेतनमान VI में कार्यरत पुरुष कर्मचारियों की संख्या कुल कर्मचारियों का कितना प्रतिशत है ? (निकटतम पूर्णांक तक पूर्णांकित)  
(a) 35 (b) 36 (c) 44 (d) 34
- वेतनमान VI की महिला कर्मचारियों और वेतनमान I के पुरुष कर्मचारियों के बीच क्रमशः क्या अनुपात है ?  
(a) 32 : 23 (b) 22 : 33 (c) 12 : 23 (d) इनमें से कोई नहीं
- वेतनमान V में काम कर रहे पुरुष और महिला कर्मचारियों का अनुपात है -  
(a) 7 : 8 (b) 2 : 1 (c) 1 : 2 (d) 8 : 7
- कितनी महिलाएं वेतनमान II में कार्य कर रही हैं ?  
(a) 144 (b) 81 (c) 96 (d) 138
- वेतनमान III और IV में मिलकर काम कर रही महिला कर्मचारियों की कुल संख्या क्या है ?  
(a) 219 (b) 157 (c) 162 (d) 285

# **GOUR** INSTITUTE

PSC, Bank (Clerk/PO), SSC, Railways, S.I., Classes

Director - Rajeev Sir, Mob. 9826072042, 9039009669

F – 12, City Bazar, Thatipur, Gwalior (M.P.) [www.gourinstitute.in](http://www.gourinstitute.in)

## **ANSWER SHEET**

### **PIE CHART EXERCISE - 1**

1	2	3	4	5	6	7	8
D	B	A	B	B	A	C	C

### **PIE CHART EXERCISE - 2**

1	2	3	4	5
D	D	D	B	A