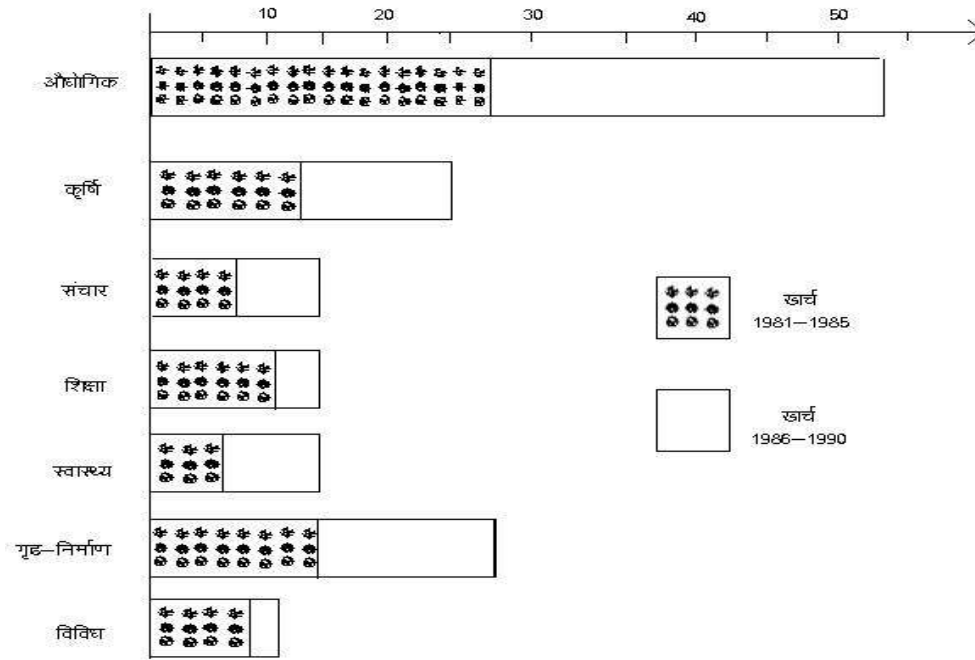


## BAR CHART

### EXERCISE-1

निर्देश : नीचे दिए गए चित्र में किसी राज्य का 1981 से 1990 तक का खर्च प्रतिशत दिया है। प्रत्येक चित्र में छायादित भाग प्रथम 5 वर्षों के खर्च को तथा शेष भाग अगले 5 वर्षों में खर्च को दर्शाता है।



- वर्ष 1981 से वर्ष 1985 तक के वर्षों में अधिकतम खर्च किस मद में हुआ ?  
(a) संचार (b) शिक्षा (c) स्वास्थ्य (d) गृह निर्माण (e) इनमें से कोई नहीं
- वर्ष 1986 से 1990 तक के वर्षों में अधिकतम खर्च किस मद में हुआ ?  
(a) कृषि (b) संचार (c) शिक्षा (d) स्वास्थ्य (e) इनमें से कोई नहीं
- वर्ष 1986 से 1990 तक के वर्षों में कृषि पर हुआ खर्च औद्योगिकी पर हुए खर्च का कौन सा भाग है ?  
(a)  $1/5$  (b)  $1/4$  (c)  $1/3$  (d) अपर्याप्त (e) इनमें से कोई नहीं
- यदि 1981 से 1985 तक गृह निर्माण पर कुल खर्च 610 करोड़ रु. हो। तो इस काल में औद्योगिकी पर कुल खर्च लगभग कितना हुआ ?  
(a) 2440 (b) 1220 (c) 4620 (d) इनमें से कोई नहीं
- 1981 से 1990 तक के वर्षों में गृह निर्माण पर हुए प्रत्येक 10000 रु. के खर्च में से 1981 से 1985 तक कितना खर्च हुआ ?  
(a) 1400 (b) 700 (c) 1000 (d) 2800 (e) इनमें से कोई नहीं

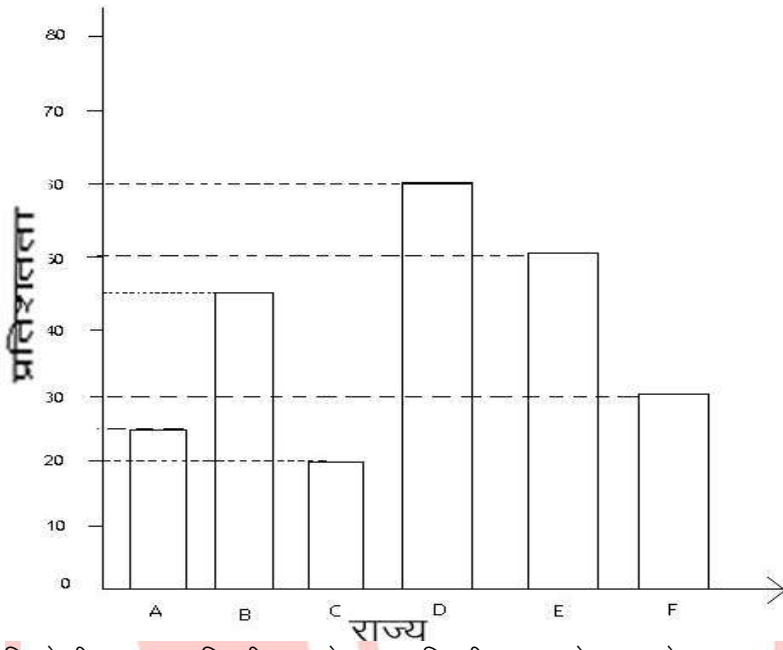
# GOUR INSTITUTE

PSC, Bank (Clerk/PO), SSC, Railways, S.I., Classes

Director - Rajeev Sir, Mob. 9826072042, 9039009669

F – 12, City Bazar, Thatipur, Gwalior (M.P.) [www.gourinstitute.in](http://www.gourinstitute.in)

निर्देश : नीचे दिए गए चित्र में छः राज्यों में उन गांवों का प्रतिशत जिनका विद्युतीकरण नहीं हुआ है। इसका अध्ययन करके प्रश्नों के उत्तर दो-

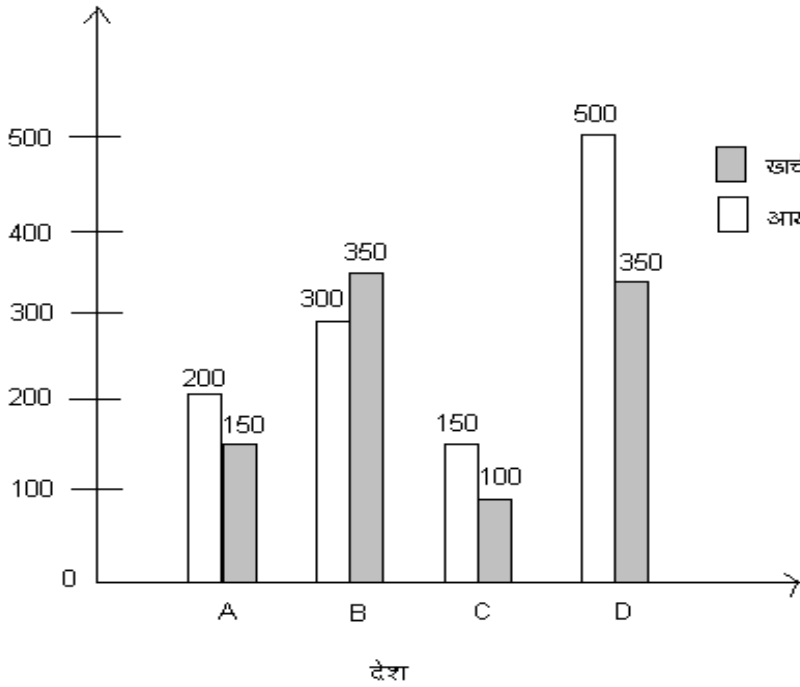


06. यदि केन्द्रीय सरकार विद्युतीकरण हेतु कम-विद्युतीकरण वाले राज्य से आरम्भ करके अधिक विद्युतीकरण वाले राज्यों को वित्तीय सहायता दें। तो किस राज्य का चौथा स्थान होगा ?  
(a) C (b) B (c) A (d) E (e) F
07. राज्य D की तुलना में किस राज्य का विद्युतीकरण प्रतिशत दुगुना है ?  
(a) C (b) F (c) A (d) B (e) E
08. राज्य B में कितने प्रतिशत गांवों का विद्युतीकरण हुआ ?  
(a) 65% (b) 25% (c) 45% (d) 55% (e) 75%
09. कितने राज्यों के 60: या इससे अधिक गांवों का विद्युतीकरण हो चुका है ?  
(a) 5 (b) 3 (c) 4 (d) 2 (e) 1
10. किस राज्य के अधिकतम गांवों का विद्युतीकरण हो चुका है ?  
(a) A (b) B (c) C (d) D (e) E

## BAR CHART

### EXERCISE-2

निर्देश : नीचे दिए गए चित्र में समझकर उत्तर दें. (किसी चार देशों के आय और व्यय का व्योरा (हजार करोड़ में))



- सभी देशों की कुल आय और कुल खर्च में क्या अंतर है ?  
(a) 300 करोड़ (b) 200 करोड़ (c) 250 करोड़ (d) 350 करोड़ (e) इनमें से कोई नहीं
- किस देश का खर्च आय से अधिक है ?  
(a) A (b) B (c) C (d) D (e) इनमें से कोई नहीं
- देश D की आय सभी देशों के खर्च का कितने प्रतिशत है ?  
(a) 32.96% (b) 73.64% (c) 82.85% (d) 52.63% (e) इनमें से कोई नहीं
- B देश के आय को कितना प्रतिशत बढ़ाया जाए कि खर्च के बाद 200 हजार करोड़ बच जाए ?  
(a) 77.77% (b) 55.55% (c) 83.33 (d) 85.55% (e) इनमें से कोई नहीं

# **GOUR** INSTITUTE

PSC, Bank (Clerk/PO), SSC, Railways, S.I., Classes

Director - Rajeev Sir, Mob. 9826072042, 9039009669

F – 12, City Bazar, Thatipur, Gwalior (M.P.) [www.gourinstitute.in](http://www.gourinstitute.in)

## **ANSWER SHEET**

### **BAR CHART EXERCISE - 1**

<b>1</b>	<b>2</b>	<b>3</b>	<b>4</b>	<b>5</b>	<b>6</b>	<b>7</b>	<b>8</b>	<b>9</b>	<b>10</b>
D	A	A	D	C	E	A	D	B	C

### **BAR CHART EXERCISE - 2**

<b>1</b>	<b>2</b>	<b>3</b>	<b>4</b>
B	B	D	C